

제 2 교시

60분

수학 영역

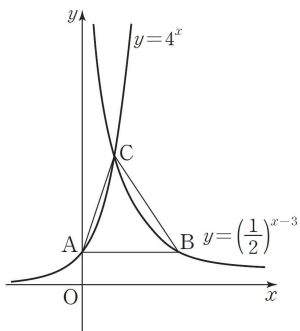
홀수형

5지선다형

1 $\int_{-2}^2 (4x^3 + 3x^2 + 2x + 1)dx$ 의 값은? [3점]

- ① 8 ② 12 ③ 16
- ④ 20 ⑤ 24

2 그림과 같이 함수 $y=4^x$ 의 그래프가 y 축과 만나는 점을 A, 점 A를 지나고 x 축에 평행한 직선이 함수 $y=(\frac{1}{2})^{x-3}$ 의 그래프와 만나는 점을 B, 두 함수 $y=4^x$, $y=(\frac{1}{2})^{x-3}$ 의 그래프가 만나는 점을 C라 할 때, 삼각형 ABC의 넓이는? [3점]



- ① $\frac{9}{2}$ ② 5 ③ $\frac{11}{2}$
- ④ 6 ⑤ $\frac{13}{2}$

3 3)네 양수 a, b, c, d 가 다음 조건을 만족시킨다.

(가) $bcd = (\frac{1}{5})^6 a^3$

(나) 네 수 $a, 10b, 10^2c, 10^3d$ 는 이 순서대로 등비수열을 이룬다.

$10^3(\frac{b}{a} + \frac{c}{a} + \frac{d}{a})$ 의 값은?

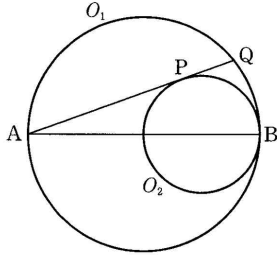
- ① 842 ② 428 ③ 248
- ④ 222 ⑤ 111

4 4)0이 아닌 모든 실수에서 미분가능한 두 함수 $f(x)$ 와 $g(x)$ 에 대하여 $f(x) = \frac{g(x)}{x^k}$ 이고 $g'(2)=0$ 이다. 곡선 $y=f(x)$ 위의 점 $(2, f(2))$ 에서의 접선의 x 절편이 $\frac{5}{2}$ 일 때, $\frac{g'(1)}{g(1)} - \frac{f'(1)}{f(1)}$ 의 값은?

(단, $g(1) \neq 0, g(2) \neq 0$ 이고 k 는 자연수이다.)

- ① 1 ② 2 ③ 3
- ④ 4 ⑤ 5

5 그림과 같이 $\overline{AB}=2$ 인 선분 AB를 지름으로 하는 원 O_1 과 반지름의 길이가 r 인 원 O_2 가 점 B에서 내접하고 있다. 점 A에서 원 O_2 에 그은 접선의 접점을 P, 이 접선이 원 O_1 과 만나는 점 중 A가 아닌 점을 Q라 할 때, $\lim_{r \rightarrow +0} \frac{\overline{PQ}}{r}$ 의 값을 구하시오.



6 세 자연수 a, b, c 에 대하여 등식 $\log a + \log b + \log c = 6(\log 2 + \log 3)$ 을 만족시키는 모든 순서쌍 (a, b, c) 의 개수는?
 ① 625 ② 676 ③ 784
 ④ 841 ⑤ 900

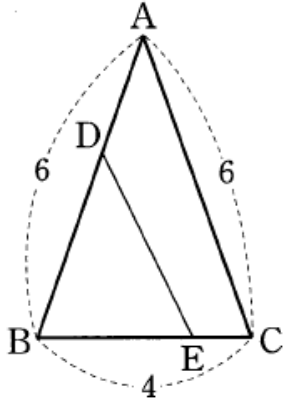
7 최고차항의 계수가 1인 삼차함수 $f(x)$ 가 다음 조건을 만족시킨다.

- (가) $f(0) < 0$
 (나) 함수 $y = |f(x)|$ 는 $x=0$ 에서만 극댓값을 갖고 $x=-2, x=2$ 에서만 극솟값을 갖는다.

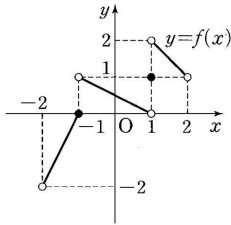
$f(3)$ 의 값은?
 ① 14 ② 24 ③ 34
 ④ 44 ⑤ 54

8 자연수 n 에 대하여 $\frac{7}{2}-n$ 의 n 제곱근 중 실수의 개수를 $f(n)$ 이라 할 때, $f(2)+f(3)+f(4)$ 의 값은?
 ① 3 ② 4 ③ 5
 ④ 6 ⑤ 7

9 그림과 같이 $\overline{AB}=\overline{AC}=6, \overline{BC}=4$ 인 삼각형 ABC 가 있다. 변 AB 위의 점 D와 변 BC 위의 점 E 를 잇는 선분 DE 에 의하여 삼각형 ABC 의 넓이가 이등분될 때, 선분 DE 의 길이의 최솟값을 구하시오.



10 $-2 < x < 2$ 에서 정의된 함수 $y=f(x)$ 의 그래프가 그림과 같을 때, 옳은 것만을 보기에서 있는 대로 고른 것은?



[보 기]

- ㄱ. $\lim_{x \rightarrow -1^+} f(x) = 1$
- ㄴ. $\lim_{x \rightarrow 1^-} f^{-1}(x) = -1$
- ㄷ. $\lim_{x \rightarrow a^-} f^{-1}(x) + \lim_{x \rightarrow a^+} f^{-1}(x) = 1$ 을 만족시키는 실수 a 는 2개다.

- ① ㄱ ② ㄱ, ㄴ ③ ㄱ, ㄷ
- ④ ㄴ, ㄷ ⑤ ㄱ, ㄴ, ㄷ

11 $0 < x < 2\pi$ 에서 방정식 $\tan x + \sqrt{3} \frac{1}{\tan x} = 1 + \sqrt{3}$ 의 서로 다른 네 실근을 작은 것부터 차례로 x_1, x_2, x_3, x_4 라 할 때, $x_1 + x_2 + x_3 + x_4$ 의 값을 구하시오.

12 함수 $f(x) = \begin{cases} x+4 & (x \leq -1) \\ ax(x-2) & (-1 < x \leq 1) \\ 2x+b & (x > 1) \end{cases}$ 에 대하여 함수

$g(x) = \frac{f(x) + |f(x)|}{2}$ 가 실수 전체의 집합에서 연속이 되도록

하는 두 실수 a, b 의 합 $a+b$ 의 최댓값은?

- ① -2 ② -1 ③ 0
- ④ 1 ⑤ 2

13 수열 $\{a_n\}$ 에 대하여 첫째항부터 제 n 항까지의 합을 S_n 이라 하자. (단, $a_1 < a_2 < a_3 < \dots < a_n < \dots$ 이다.)

$$a_1 = 1, a_2 = 3$$

$$(S_{n+1} - S_{n-1})^2 = 4a_n a_{n+1} + 4 \quad (n = 2, 3, 4, \dots)$$

일 때, a_{20} 의 값은?

- ① 39 ② 43 ③ 47 ④ 51 ⑤ 55

14 원점에서 동시에 출발하여 수직선 위를 움직이는 두 점 P, Q의 시각 $t(t \geq 0)$ 에서의 위치를 각각 $f(t)$, $g(t)$ 라 하면

$$f(t) = t^3 + 3t^2 - 9t, \quad g(t) = t^3 + t^2 - t$$

이다. 보기에서 옳은 것만을 있는 대로 고른 것은?

■ 보기 ■

ㄱ. 두 점 P, Q의 속도가 같아지는 순간은 $t=2$ 일 때이다.

ㄴ. $\frac{1}{3} < t < 1$ 에서 두 점 P, Q는 서로 반대 방향으로 움직인다.

ㄷ. 선분 PQ의 중점을 M이라 할 때, 두 점 P, Q가 출발 후 처음으로 다시 만나는 순간 점 M의 속도는 59이다.

- ① ㄱ ② ㄴ ③ ㄱ, ㄷ
④ ㄴ, ㄷ ⑤ ㄱ, ㄴ, ㄷ

15 다항함수 $f(x)$ 가 다음 조건을 만족시킨다.

(가) 모든 실수 x 에 대하여 $f(-x) = -f(x)$ 이다.

$$(나) \int \{f(x) + f'(x)\} dx = \frac{1}{2}x^4 + mx^3 + \frac{1}{2}x^2 + nx + C$$

두 상수 m, n 의 합 $m+n$ 의 값은? (단, C 는 적분상수이다.)

- ① -3 ② -1 ③ 1
④ 3 ⑤ 5

[미적분]

16 이차방정식 $x^2 - 6x + 4 = 0$ 의 두 근이 $\tan\alpha, \tan\beta$ 일 때,

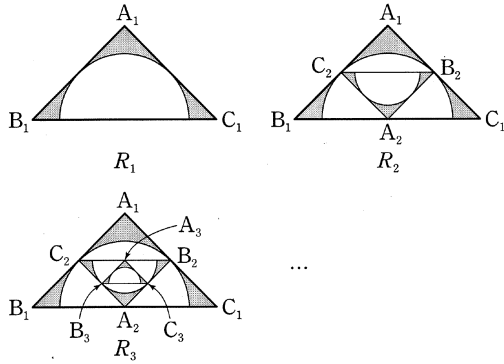
$|\tan(\alpha - \beta)|$ 의 값은?

- ① $\frac{\sqrt{5}}{5}$ ② $\frac{3\sqrt{5}}{10}$ ③ $\frac{2\sqrt{5}}{5}$
④ $\frac{\sqrt{5}}{2}$ ⑤ $\frac{3\sqrt{5}}{5}$

17 그림과 같이 $\overline{A_1B_1} = \overline{A_1C_1} = \sqrt{2}$ 이고, $\angle A_1 = 90^\circ$ 인 직각삼각형 $A_1B_1C_1$ 의 내부와 이 직각삼각형의 두 변과 접하고 중심이 선분 B_1C_1 위에 있는 반원의 외부에 공통으로 속하는 영역을 색칠하여 얻은 그림을 R_1 이라 하자.

그림 R_1 에서 그린 반원의 중심을 A_2 , 반원과 직각삼각형 $A_1B_1C_1$ 의 두 변이 접하는 접점을 각각 B_2, C_2 라 할 때, 직각삼각형 $A_2B_2C_2$ 의 내부와 이 직각삼각형의 두 변과 접하고 중심이 선분 B_2C_2 위에 있는 반원의 외부에 공통으로 속하는 영역을 색칠하여 얻은 그림을 R_2 라 하자.

이와 같은 과정을 계속하여 n 번째 얻은 그림 R_n 에서 색칠되어 있는 부분의 넓이를 S_n 이라 할 때, $\lim_{n \rightarrow \infty} S_n$ 의 값은?



- ① $\frac{\pi-3}{6}$
- ② $\frac{4-\pi}{6}$
- ③ $\frac{\pi-3}{3}$
- ④ $\frac{4-\pi}{3}$
- ⑤ $\frac{\pi-3}{2}$

18 함수 $f(x) = \sin \frac{\pi}{3}x - 1$ 에 대하여

$$a = \lim_{x \rightarrow 0} \frac{1}{x} \int_2^{2+x} f(t) dt,$$

$$b = \lim_{x \rightarrow 1} \frac{1}{x-1} \int_1^{x^2} f(t) dt$$

일 때, $2a-b$ 의 값은?

- ① $-2\sqrt{3}$
- ② -2
- ③ 0
- ④ 2
- ⑤ $2\sqrt{3}$

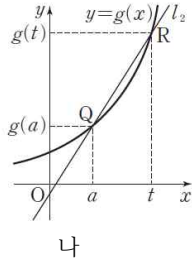
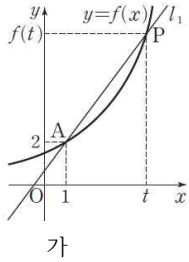
19 두 함수 $f(x) = x + \ln x$, $g(x) = e^x$ 에 대하여

$$\int_2^4 \{f(g(x)) + g(f(x))\} dx = p + qe^2 + re^4$$

을 만족시키는 세 정수 p, q, r 의 합 $p+q+r$ 의 값은? (단, e 는 자연로그의 밑이다.)

- ① 6
- ② 8
- ③ 10
- ④ 12
- ⑤ 14

20 [그림 가]는 $f(1)=2$ 인 미분가능한 함수 $y=f(x)$ 의 그래프 위의 서로 다른 두 점 $A(1, 2), P(t, f(t))$ 를 지나는 직선 l_1 을 나타낸 것이다. [그림 나]는 미분가능한 함수 $y=g(x)$ 의 그래프 위의 서로 다른 두 점 $Q(a, g(a)), R(t, g(t))$ 를 지나는 직선 l_2 를 나타낸 것이다.



직선 l_1 의 기울기가 $t^2 + 2t$ 이고 직선 l_2 의 기울기가 $a^2 + 2at + t^2$ 일 때, 곡선 $y=g(f(x))$ 위의 점 $B(1, g(f(1)))$ 에서의 접선의 기울기를 구하시오.

※ 확인 사항
문제지와 답안지의 해당란을 정확히 기입(표기)했는지 확인하시오.

해설

1) [정답] ④

$$\int_{-2}^2 (4x^3 + 3x^2 + 2x + 1) dx$$

$$= \int_{-2}^2 (3x^2 + 1) dx$$

$$= 2 \int_0^2 (3x^2 + 1) dx$$

$$= 2 \left[x^3 + x \right]_0^2$$

$$= 2 \times (8 + 2) = 20$$

2) [정답] ①

점 A의 x좌표는 0이므로 $y=4^x$ 에 $x=0$ 을 대입하면 $y=1$ 즉, A(0, 1)이다.

또, 점 B의 y좌표는 1이므로 $y=\left(\frac{1}{2}\right)^{x-3}$ 에 $y=1$ 을 대입하면

$$\left(\frac{1}{2}\right)^{x-3} = 1$$

$$\therefore x=3$$

즉, B(3, 1)이다.

또, 점 C는 두 함수 $y=4^x$, $y=\left(\frac{1}{2}\right)^{x-3}$ 의 그래프가 만나는 점
이므로

$$4^x = \left(\frac{1}{2}\right)^{x-3}$$

$$2^{2x} = 2^{-x+3}$$

$$2x = -x + 3$$

$$\therefore x=1$$

즉, C(1, 4)이다.

따라서 삼각형 ABC의 넓이를 S라 하면

$$S = \frac{1}{2} \times 3 \times 3 = \frac{9}{2}$$

3) ③

조건 (나)에서 등비수열 $a, 10b, 10^2c, 10^3d$ 의 공비를 $r(r>0)$ 라 하면

$$10b = ar, 10^2c = ar^2, 10^3d = ar^3$$

$$b = \frac{r}{10}a, c = \left(\frac{r}{10}\right)^2a, d = \left(\frac{r}{10}\right)^3a \quad \dots \textcircled{\ominus}$$

조건 (가)에서 $bcd = \left(\frac{r}{10}\right)^6 a^3 = \left(\frac{1}{5}\right)^6 a^3$ 이고 $a > 0$ 이므로

$$r^6 = 2^6, (r^3 + 2^3)(r^3 - 2^3) = 0$$

$$\therefore r = 2 (\because r > 0)$$

①에서 $\frac{b}{a} = \frac{2}{10}, \frac{c}{a} = \left(\frac{2}{10}\right)^2, \frac{d}{a} = \left(\frac{2}{10}\right)^3$ 이므로

$$10^3 \left(\frac{b}{a} + \frac{c}{a} + \frac{d}{a} \right) = 10^3 \left(\frac{2}{10} + \frac{4}{100} + \frac{8}{1000} \right)$$

$$= 10^3 \times \frac{200 + 40 + 8}{1000} = 248$$

[참고]

네 수 a, b, c, d 는 이 순서대로 공비가 $\frac{r}{10} = \frac{1}{5}$ 인 등비수열을 이룬다.

4) ④

$g(x) = x^k f(x)$ 이므로 $g'(x) = kx^{k-1}f(x) + x^k f'(x)$ 이다.

문제의 조건으로부터 $g'(2) = 0$ 이고 $g(2) \neq 0$ 이므로

$$k \times 2^{k-1} f(2) + 2^k f'(2) = 0 \text{ 이고 } f(2) \neq 0 \text{ 이다.}$$

따라서 $f'(2) \neq 0$ 이고 $\frac{f(2)}{f'(2)} = -\frac{2}{k}$ 이다.

한편 곡선 $y=f(x)$ 위의 점 $(2, f(2))$ 에서의 접선의 방정식은

$$y - f(2) = f'(2)(x - 2)$$

이 접선이 점 $\left(\frac{5}{2}, 0\right)$ 을 지나므로

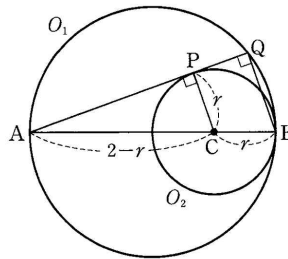
$$\frac{f(2)}{f'(2)} = -\frac{1}{2}$$

$$\therefore k=4$$

이때 $g'(1) = 4f(1) + f'(1)$ 이고 $g(1) = f(1)$ 이므로

$$\frac{g'(1)}{g(1)} - \frac{f'(1)}{f(1)} = \frac{g'(1) - f'(1)}{f(1)} = \frac{4f(1)}{f(1)} = 4$$

5) 1



그림과 같이 원 O_2 의 중심을 C라 할 때,

$$\overline{AP} = \sqrt{(2-r)^2 - r^2}$$

$$= \sqrt{4-4r}$$

두 삼각형 ACP, ABQ는 닮은 삼각형이므로

$$\overline{AC} : \overline{CB} = \overline{AP} : \overline{PQ}$$

$$(2-r) : r = \sqrt{4-4r} : \overline{PQ}$$

$$\therefore \overline{PQ} = \frac{r\sqrt{4-4r}}{2-r}$$

$$\therefore \lim_{r \rightarrow +0} \frac{\overline{PQ}}{r} = \lim_{r \rightarrow +0} \frac{\sqrt{4-4r}}{2-r} = 1$$

6) ③

$\log abc = 6 \log 6, abc = 2^6 \times 3^6$ 이므로

$a = 2^p \times 3^l, b = 2^q \times 3^m, c = 2^r \times 3^n$ (p, q, r, l, m, n 은 0 이상 6 이하의 정수)으로 놓으면

$$abc = 2^{p+q+r} \times 3^{l+m+n} = 2^6 \times 3^6$$

이때, 두 방정식 $p+q+r=6, l+m+n=6$ 을 만족시키는 0 이상의 정수해를 정하면 그때 a, b, c 의 값이 하나씩 정해진다.

$${}_{3+6-1}C_6 \times {}_{3+6-1}C_6 = {}_8C_6 \times {}_8C_6$$

$$= {}_8C_2 \times {}_8C_2$$

$$= 28^2 = 784$$

따라서 모든 순서쌍 (a, b, c) 의 개수는 784이다.

7) ③

조건 (가)에서 $f(0) < 0$ 이고 함수 $y=|f(x)|$ 는 $x=0$ 에서 극댓값

을 가지므로 함수 $f(x)$ 는 $x=0$ 에서 극소이다.

또, 함수 $y=|f(x)|$ 는 $x=-2,$

$x=2$ 에서 극솟값을 가지므로 함

수 $f(x)$ 는 $x=-2$ 에서 극댓값을 갖고 $f(2)=0$ 이다.

이때, 삼차함수 $f(x)$ 의 최고차항의 계수가 1이므로

$$f'(x) = 3x(x+2) = 3x^2 + 6x$$

$$f(x) = \int f'(x) dx = \int (3x^2 + 6x) dx = x^3 + 3x^2 + C \quad (\text{단, } C \text{는 적분상수})$$

한편 $f(2)=0$ 이므로
 $f(2) = 8 + 12 + C = 0$
 $\therefore C = -20$

따라서 $f(x) = x^3 + 3x^2 - 20$ 이므로

$$f(3) = 27 + 27 - 20 = 34$$

8) ①

$n=2$ 또는 $n=3$ 이면 $\frac{7}{2} - n > 0$ 이고,

$n=4$ 이면 $\frac{7}{2} - n < 0$ 이므로

$n=2$ 일 때, n 제곱근 중 실수의 개수는 2

$n=2$ 일 때, n 제곱근 중 실수의 개수는 1

$n=2$ 일 때, n 제곱근 중 실수는 존재하지 않는다.

$$\therefore f(2) + f(3) + f(4) = 2 + 1 + 0 = 3$$

9) 정답 4

$\overline{BD} = x$, $\overline{BE} = y$ 라 하면 $\triangle ABC = 2\triangle DBE$ 이므로

$$\frac{1}{2} \cdot 4 \cdot 6 \sin B = 2 \cdot \frac{1}{2} xy \sin B \quad \therefore xy = 12$$

한편, $\triangle ABC$ 에서 제이코사인법칙에 의하여

$$\cos B = \frac{6^2 + 4^2 - 6^2}{2 \cdot 6 \cdot 4} = \frac{1}{3}$$

이므로 $\triangle DBE$ 에서 제2코사인법칙에 의하여

$$\overline{DE}^2 = x^2 + y^2 - 2xy \cos B = x^2 + y^2 - \frac{2}{3}xy$$

이 때, 산술평균과 기하평균의 관계에 의하여

$$x^2 + y^2 \geq 2\sqrt{x^2 y^2} = 2xy \quad (\text{단, 등호는 } x=y \text{일 때 성립})$$

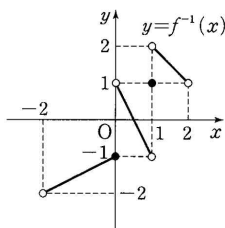
$$\overline{DE}^2 \geq 2xy - \frac{2}{3}xy = \frac{4}{3}xy = 16 \quad \therefore \overline{DE} \geq 4$$

따라서 구하는 최솟값은 4이다.

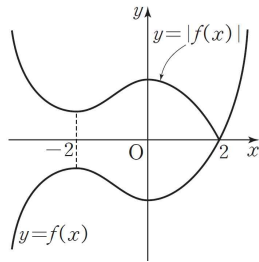
10) ⑤

ㄱ. 주어진 그래프에서 $\lim_{x \rightarrow -1+0} f(x) = 1$ (참)

$y = f^{-1}(x)$ 의 그래프는 $y = f(x)$ 의 그래프를 직선 $y = x$ 에 대하여 대칭 이동한 것이므로 그림과 같다.



ㄴ. 위의 그래프에서 $\lim_{x \rightarrow -1-0} f^{-1}(x) = -1$ (참)



ㄷ. (i) $x=a$ 에서 극한값이 존재하는 경우

$$\lim_{x \rightarrow a-0} f^{-1}(x) = \lim_{x \rightarrow a+0} f^{-1}(x) = \lim_{x \rightarrow a} f^{-1}(x) \text{ 이므로}$$

$$\lim_{x \rightarrow a-0} f^{-1}(x) + \lim_{x \rightarrow a+0} f^{-1}(x) = 1 \text{ 이 되려면}$$

$$2\lim_{x \rightarrow a} f^{-1}(x) = 1, \text{ 즉 } \lim_{x \rightarrow a} f^{-1}(x) = \frac{1}{2}$$

이를 만족시키는 a 는 위의 그래프에서 1개다.

(ii) $x=a$ 에서 극한값이 존재하지 않는 경우

$$\lim_{x \rightarrow -1-0} f^{-1}(x) + \lim_{x \rightarrow -1+0} f^{-1}(x) = (-1) + 2 = 1$$

$$\lim_{x \rightarrow -0} f^{-1}(x) + \lim_{x \rightarrow +0} f^{-1}(x) = (-1) + 1 = 0$$

그러므로 $a=1$ 일 때, 주어진 조건을 만족시킨다.

(i), (ii)에서 주어진 조건을 만족시키는 실수 a 는 2개다.

(참)

따라서 옳은 것은 ㄱ, ㄴ, ㄷ 이다.

11) 정답 $\frac{19\pi}{6}$

$\tan x + \sqrt{3} \cot x = 1 + \sqrt{3}$ 의 양변에 $\tan x$ 를 곱하면

$$\tan^2 x - (1 + \sqrt{3}) \tan x + \sqrt{3} = 0$$

$\tan x = t$ 로 놓으면

$$t^2 - (1 + \sqrt{3})t + \sqrt{3} = 0, \quad (t-1)(t-\sqrt{3}) = 0$$

$$\therefore t = 1 \text{ 또는 } t = \sqrt{3}$$

(i) $t=1$, 즉 $\tan x = 1$ 일 때,

$0 < x < 2\pi$ 이므로

$$x = \frac{\pi}{4} \text{ 또는 } x = \frac{5}{4}\pi$$

(ii) $t = \sqrt{3}$, 즉 $\tan x = \sqrt{3}$ 일 때,

$0 < x < 2\pi$ 이므로

$$x = \frac{\pi}{3} \text{ 또는 } x = \frac{4}{3}\pi$$

따라서 $x_1 = \frac{\pi}{4}$, $x_2 = \frac{\pi}{3}$, $x_3 = \frac{5}{4}\pi$, $x_4 = \frac{4}{3}\pi$ 이므로

$$x_1 + x_2 + x_3 + x_4 = \frac{\pi}{4} + \frac{\pi}{3} + \frac{4\pi}{3} + \frac{5\pi}{4} = \frac{3\pi + 4\pi + 16\pi + 15\pi}{12}$$

$$= \frac{38\pi}{12} = \frac{19\pi}{6}$$

12) ②

$$g(x) = \frac{f(x) + |f(x)|}{2} \text{ 에서}$$

$$f(x) \geq 0 \text{ 이면 } g(x) = \frac{f(x) + f(x)}{2} = f(x)$$

$$f(x) < 0 \text{ 이면 } g(x) = \frac{f(x) - f(x)}{2} = 0$$

함수 $g(x)$ 가 실수 전체의 집합에서 연속이므로 $x = -1$ 에서 연속이고

$$\lim_{x \rightarrow -1-0} g(x) = \lim_{x \rightarrow -1+0} g(x) = g(-1)$$

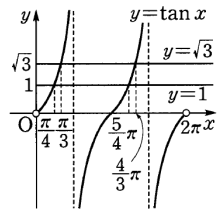
한편 $f(-1) = 3 > 0$ 이므로 $g(-1) = f(-1) = 3$ 이고

$$\lim_{x \rightarrow -1-0} g(x) = \lim_{x \rightarrow -1-0} (x+4) = 3$$

$$\lim_{x \rightarrow -1+0} g(x) = 3$$

$$\text{즉, } \lim_{x \rightarrow -1+0} ax(x-2) = (-a) \times (-3) = 3a = 3$$

$$\therefore a = 1$$



또한, 함수 $g(x)$ 가 $x=1$ 에서 연속이므로

$$\lim_{x \rightarrow 1-0} g(x) = \lim_{x \rightarrow 1+0} g(x) = g(1) \text{ 이고 } f(1) = -a = -1 < 0 \text{ 이다.}$$

$$\therefore g(1) = 0$$

$$\lim_{x \rightarrow 1-0} g(x) = \lim_{x \rightarrow 1-0} 0 = 0 \text{ 에서}$$

$$\lim_{x \rightarrow 1+0} g(x) = 0$$

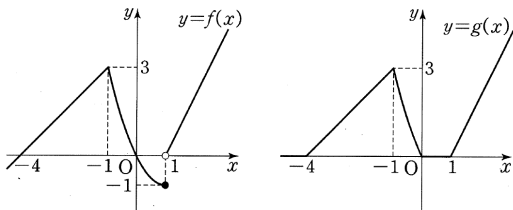
$$\text{즉, } \lim_{x \rightarrow 1+0} f(x) = \lim_{x \rightarrow 1+0} (2x+b) = 2+b \leq 0$$

$$\therefore b \leq -2$$

$$\therefore a+b \leq 1+(-2) = -1$$

[참고]

$a=1, b=-2$ 일 때 두 함수 $y=f(x), y=g(x)$ 의 그래프는 그림과 같다.



13) ①

$S_{n+1} - S_{n-1} = a_{n+1} + a_n$ 이므로 주어진 식은

$$(a_{n+1} + a_n)^2 = 4a_n a_{n+1} + 4$$

$$\text{따라서 } (a_{n+1} - a_n)^2 = 4$$

$$\therefore a_{n+1} - a_n = 2 \quad (\because a_{n+1} > a_n)$$

$$\therefore a_{20} = 1 + 2(20-1) = 39$$

14) ⑤

$$f'(t) = 3t^2 + 6t - 9 = 3(t+3)(t-1)$$

$$g'(t) = 3t^2 + 2t - 1 = (3t-1)(t+1)$$

ㄱ. $f'(t) = g'(t)$ 에서

$$3t^2 + 6t - 9 = 3t^2 + 2t - 1, \quad 4t = 8 \quad \therefore t = 2$$

그러므로 $t=2$ 일 때 두 점 P, Q의 속도가 같아진다. (참)

ㄴ. 점 P는 $0 < t < 1$ 에서 음의 방향으로 움직이고, $t > 1$ 에서는 양의 방향으로 움직인다.

또한 점 Q는 $0 < t < \frac{1}{3}$ 에서 음의 방향으로 움직이고,

$t > \frac{1}{3}$ 에서는 양의 방향으로 움직인다.

따라서 $\frac{1}{3} < t < 1$ 에서 두 점 P, Q는 서로 반대 방향으로 움직인다. (참)

ㄷ. 두 점 P, Q가 출발 후 처음으로 다시 만날 때 $f(t) = g(t)$ 이므로

$$t^3 + 3t^3 - 9t = t^3 + t^2 - t, \quad 2t^2 - 8t = 0$$

$$t(t-4) = 0 \quad \therefore t = 4 \quad (\because t > 0)$$

즉, $t=4$ 일 때 다시 만난다.

선분 PQ의 중점 M의 위치를 $h(t)$ 라 하면

$$h(t) = \frac{(t^3 + 3t^2 - 9t) + (t^3 + t^2 - t)}{2} = t^3 + 2t^2 - 5t$$

$$h'(t) = 3t^2 + 4t - 5$$

그러므로 $t=4$ 일 때 중점 M의 속도는

$$h'(4) = 3 \times 4^2 + 4 \times 4 - 5 = 59 \text{ (참)}$$

따라서 옳은 것은 ㄱ, ㄴ, ㄷ이다.

15) ④

조건 (나)에서 $f(x)$ 는 삼차함수이므로

함수 $f(x) = ax^2 + bx^2 + cx + d$ (a, b, c, d 는 상수, $a \neq 0$)로

놓으면 조건 (가)에서 모든 실수 x 에 대하여 $f(-x) = -f(x)$ 이므로

$$-ax^3 + bx^2 - cx + d = -(ax^3 + bx^2 + cx + d)$$

위 식은 x 에 대한 항등식이므로 양변의 계수를 비교하면

$$b = -b, \quad d = -d \quad \therefore b = 0, \quad d = 0$$

따라서 $f(x) = ax^3 + cx$ 이므로 $\dots \ominus$

$$f'(x) = 3ax^2 + c \quad \dots \omin�$$

한편 조건 (다)에서

$$\int \{f(x) + f'(x)\} dx = \frac{1}{2}x^4 + mx^3 + \frac{1}{2}x^2 + nx + C$$

의 양변을 x 에 대해 미분하면

$$f(x) + f'(x) = 2x^3 + 3mx^2 + x + n \quad \dots \omin�$$

㉑, ㉕을 ㉔에 대입하면

$$(ax^3 + cx) + (3ax^2 + c) = 2x^3 + 3mx^2 + x + n$$

$$ax^3 + 3ax^2 + cx + c = 2x^3 + 3mx^2 + x + n$$

$$a = 2, \quad 3a = 3m, \quad c = 1, \quad c = n$$

$$\therefore m = a = 2, \quad n = c = 1$$

$$\therefore m + n + 1 = 3$$

16) ③

이차방정식의 근과 계수와의 관계에 의하여

$$\tan \alpha + \tan \beta = 6, \quad \tan \alpha \tan \beta = 4$$

이다. 이때

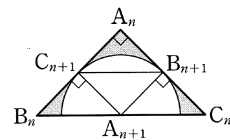
$$\begin{aligned} (\tan \alpha - \tan \beta)^2 &= (\tan \alpha + \tan \beta)^2 - 4 \tan \alpha \tan \beta \\ &= 6^2 - 4 \times 4 = 20 \end{aligned}$$

이므로

$$|\tan \alpha - \tan \beta| = 2\sqrt{5}$$

$$|\tan(\alpha - \beta)| = \left| \frac{\tan \alpha - \tan \beta}{1 + \tan \alpha \tan \beta} \right| = \frac{2\sqrt{5}}{1+4}$$

17) ④



직각이등변삼각형 $A_n B_n C_n$ 에서 $\overline{A_n B_n} = \overline{A_n C_n} = a_n$ 이라 하자.

점 A_{n+1} 이 반원의 중심이고, 두 점 B_{n+1}, C_{n+1} 은 접점이므로

$$\angle A_{n+1} C_{n+1} B_{n+1} = \angle A_{n+1} B_{n+1} C_{n+1} = 90^\circ$$

이고,

$$\overline{A_{n+1} C_{n+1}} = \overline{A_{n+1} B_{n+1}}$$

이므로 사각형 $A_n C_{n+1} A_{n+1} B_{n+1}$ 은 정사각형이다. 따라서

$$\overline{A_{n+1} B_{n+1}} = \frac{1}{2} \overline{A_n C_n} = \frac{1}{2} \overline{A_n B_n}$$

$$\therefore a_{n+1} = \frac{1}{2} a_n$$

한편, 그림 R_n 에서 새로 색칠한 도형과 그림 R_{n+1} 에서 새로 색칠한 도형의 넓음비가 $1 : \frac{1}{2}$ 이므로 넓이의 비는 $1 : \frac{1}{4}$ 이다.

이때

$$S_1 = \frac{1}{2} \times \sqrt{2} \times \sqrt{2} - \frac{1}{2} \times \pi \times \left(\frac{\sqrt{2}}{2}\right)^2 = 1 - \frac{\pi}{4}$$

이므로

$$\begin{aligned} \lim_{n \rightarrow \infty} S_n &= \left(1 - \frac{\pi}{4}\right) + \frac{1}{4} \left(1 - \frac{\pi}{4}\right) + \frac{1}{4^2} \left(1 - \frac{\pi}{4}\right) + \dots \\ &= \frac{1 - \frac{\pi}{4}}{1 - \frac{1}{4}} = \frac{4 - \pi}{3} \end{aligned}$$

18) ③

$f(t)$ 의 한 부정적분을 $F(t)$ 라 하면

$$\begin{aligned} a &= \lim_{x \rightarrow 0} \frac{1}{x} \int_2^{2+x} f(t) dt = \lim_{x \rightarrow 0} \frac{F(x+2) - F(2)}{x} \\ &= F'(2) = f(2) = \sin \frac{2}{3} \pi - 1 \\ &= \frac{\sqrt{3}}{2} - 1 \end{aligned}$$

$$\begin{aligned} b &= \lim_{x \rightarrow 1} \frac{1}{x-1} \int_1^{x^2} f(t) dt \\ &= \lim_{x \rightarrow 1} \frac{F(x^2) - F(1)}{(x-1)(x+1)} \cdot (x+1) \\ &= 2F'(1) = 2f(1) = 2 \left(\sin \frac{\pi}{3} - 1 \right) \\ &= 2 \left(\frac{\sqrt{3}}{2} - 1 \right) = \sqrt{3} - 2 \end{aligned}$$

$$\therefore 2a - b = 2 \left(\frac{\sqrt{3}}{2} - 1 \right) - (\sqrt{3} - 2) = 0$$

19) ②

$f(x) = x + \ln x$, $g(x) = e^x$ 에 대하여

$$f(g(x)) = f(e^x) = e^x + \ln e^x = e^x + x$$

$$g(f(x)) = g(x + \ln x) = e^{x + \ln x} = x e^x$$

$$\begin{aligned} \therefore & \int_2^4 \{f(g(x)) + g(f(x))\} dx \\ &= \int_2^4 (e^x + x + x e^x) dx \\ &= \int_2^4 x dx + \int_2^4 (x+1)e^x dx \\ &= \left[\frac{x^2}{2} \right]_2^4 + \left[(x+1)e^x \right]_2^4 - \int_2^4 e^x dx \\ &= (8-2) + (5e^4 - 3e^2) - \left[e^x \right]_2^4 \\ &= 6 + 5e^4 - 3e^2 - (e^4 - e^2) = 6 - 2e^2 + 4e^4 \\ \therefore & p = 6, q = -2, r = 4 \\ \therefore & p + q + r = 6 - 2 + 4 = 8 \end{aligned}$$

20) 48

직선 l_1 의 기울기가 $t^2 + 2t$ 이므로

$$f'(1) = \lim_{t \rightarrow 1} (t^2 + 2t) = 3$$

또, 직선 l_2 의 기울기가 $a^2 + 2at + t^2$ 이므로

$$g'(a) = \lim_{t \rightarrow a} (a^2 + 2at + t^2) = 4a^2$$

함수 $y = g(f(x))$ 의 도함수는

$$y' = g'(f(x))f'(x)$$

따라서 점 $B(1, g(f(1)))$ 에서의 접선의 기울기는

$$\begin{aligned} g'(f(1))f'(1) &= g'(2)f'(1) \quad (\because f(1) = 2) \\ &= 16 \cdot 3 = 48 \end{aligned}$$