

제 4 교시

사회탐구 영역(동아시아사)


성명		수험번호				2				제 [ ] 선택
----	--	------	--	--	--	---	--	--	--	----------

1. (가)에 들어갈 유물로 적절한 것은?


동아시아의 ○○○ 시대 특별전

□□ 박물관에서는 계급이 발생하고 국가가 출현한 ○○○ 시대의 유물을 전시합니다. 이번 전시를 통해 당시 사회 모습을 한층 더 깊이 이해할 수 있을 것입니다.






■ 전시 기간: 2021년 3월 △△일 ~ △△일  
 ■ 전시 장소: □□ 박물관 특별 전시실  
 ■ 전시 유물



(가)



장도기 시대

- ①  장도기
- ②  당
- ③  ✓
- ④  신라
- ⑤  신석기

2. 밑줄 친 '그'에 대한 설명으로 옳은 것은?

그는 중국을 통일하고, 황제 칭호를 처음 사용하였습니다.

또한 그는 전국에 군현제를 실시하여 중앙 집권 체제를 강화하였습니다.



- ① 태학을 설치하였다.
- ② 과거제를 실시하였다.
- ③ 자금성을 건설하였다.
- ④  만리장성을 축조하였다.
- ⑤ 3성 6부제를 시행하였다.

칭시왕제

3. (가)에 들어갈 내용으로 적절한 것은? [3점]

(가)

- ①  뤼양 천도
- ②  조정에서 선비어 사용 금지
- ③  한족 성씨 사용
- ④  선비족과 한족의 혼인 장려

- ① 신진 사대부의 성장
- ② 야마토 정권의 발전
- ③ 도왜인의 문화 전파
- ④  북위 효문제의 한화 정책
- ⑤ 한 무제의 재정 확보 노력

북위 효문제

4. (가) 국가에 대한 설명으로 옳은 것은? [3점]

소손녕이 항복을 요구하자 왕과 신하들이 대책을 논의하였다. 신하들 중 일부는 서경 이북의 땅을 떼어주자고 주장하였다. 이에 서희가 “지금 (가) 이가 침입했는데 그들의 기세가 강해보인다고 해서 성급히 서경 이북의 땅을 떼어주는 것은 대책이 아닙니다.”라고 하였다. ... (중략) ... 왕이 “누가 저들의 군영으로 가서 담판을 짓겠는가?”라고 묻자 서희가 “신이 비록 재주는 없으나 명령에 따르겠습니다.”라고 하였다.

- ① 골품제를 시행하였다.
- ② 건당사를 파견하였다.
- ③  고유 문자를 사용하였다.
- ④ 중국의 남북조를 통일하였다.
- ⑤ 산킨코타이 제도를 실시하였다.


신라 일본, 가야, 메로박부

5. 다음 인물에 대한 설명으로 옳은 것은?

동아시아 인물 카드 - 중국 편

주희

우주의 원리와 인간의 본성에 대해 탐구하다



- 생몰년: 1130 ~ 1200년
- 시대: 남송대
- 주요 활동
  - 여조겸과 『근사록』 편찬
  - 『사서집주』 집필

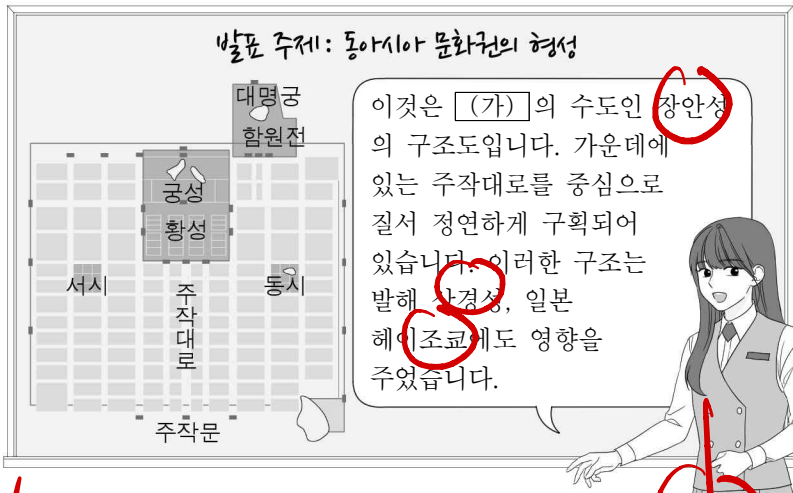
- ①  천호제를 정비하였다.
- ②  성리학을 집대성하였다.
- ③ 사고전서를 편찬하였다.
- ④ 독서삼품과를 시행하였다.
- ⑤ 곤여만국전도를 제작하였다.

칭기조칸, 송나라, 바, 천성왕, 아제오라치

① 함무제 ② 무문제 ③ 명 무림제 ④ 당 리종

동아시아사

6. (가) 왕조에서 볼 수 있는 모습으로 적절한 것은? [3점]



- ① 안사의 난을 진압하는 군인
- ② 대월지에 파견되는 장군 일행
- ③ 백운동 서원에서 공부하는 유생
- ④ 공행을 통해 무역하는 영국 상인
- ⑤ 지정은제에 따라 세금을 납부하는 농민

② ③ ④ ⑤

7. 밑줄 친 '전쟁'에 대한 탐구 활동으로 적절하지 않은 것은?

일본의 혼란을 수습한 도요토미 히데요시는 다이묘들의 강력한 군사력을 약화시켜 국내의 안정을 도모하는 동시에 영토를 확장하고자 대륙 침략을 계획하였다. 이에 명을 침략하는 데 협조할 것을 조선에 요구하였으나 거절당하자 이를 빌미로 조선을 침공하여 전쟁을 일으켰다.


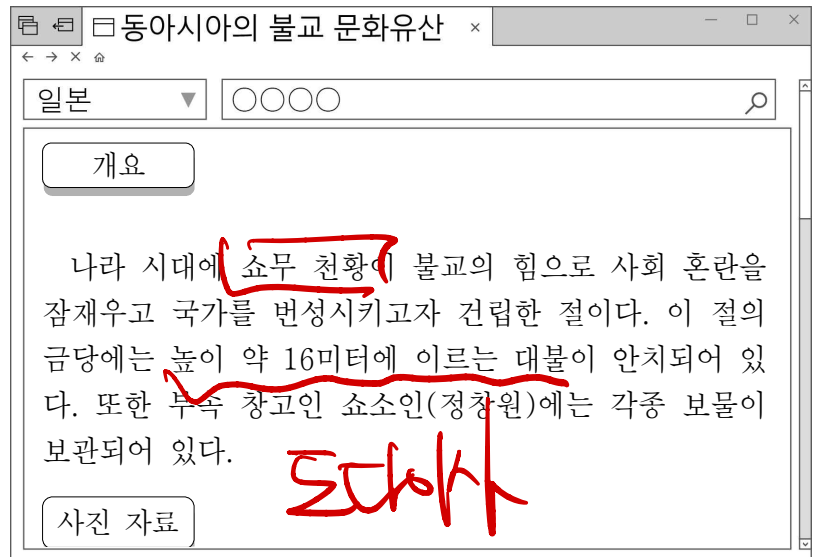
- ① 이순신의 활약상을 정리한다.
- ② 씨진족이 성장한 배경을 알아본다.
- ③ 왕안석이 신법을 실시한 목적을 파악한다.
- ④ 명이 조선에 원군을 파병한 이유를 조사한다.
- ⑤ 일본의 도자기 기술이 발달하게 된 계기를 분석한다.

8. (가)에 들어갈 조직으로 옳은 것은?

이 그림은 (가) 이가 외국 군대와 싸우는 모습을 묘사한 것이다. 이들은 "청나라를 도와 외세를 몰아내자"라는 구호를 외치며 교회와 철도 등을 파괴하고, 선교사와 외교관을 공격하였다. 그러자 영국, 미국, 일본 등 8개국은 자국민을 보호한다는 명분을 내걸고 연합군을 조직하여 (가) 을/를 진압하였다.

- ① 신간회
- ② 의화단
- ③ 배상제회
- ④ 중국 동맹회
- ⑤ 중국 국민당

9. 사진 자료로 제시될 문화유산으로 적절한 것은? [3점]



- ① 전방유적분
- ② 대불탄
- ③ 석굴암
- ④ 다보탑

10. (가)에 들어갈 내용으로 적절한 것은? [3점]

**<동아시아사 활동지>**  
2학년 △반 이름 △△△

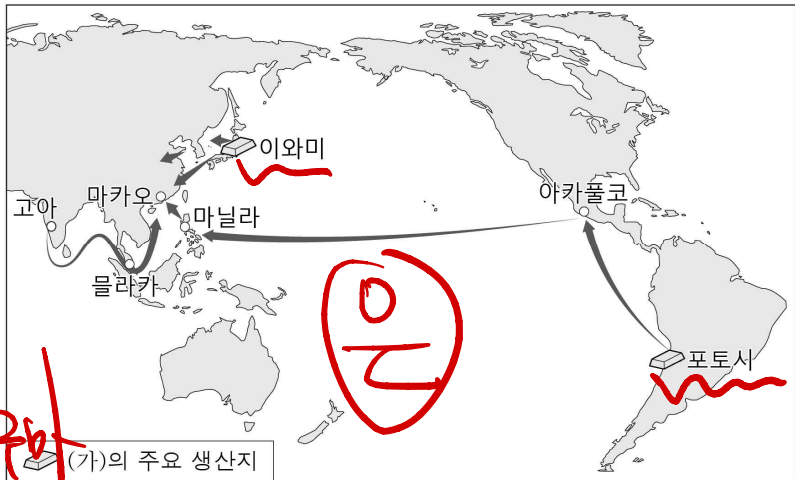
1. 학습한 내용을 바탕으로 ○○○○ 칸의 입장이 되어 답변을 작성하세요.

질문	답변	확인
칸으로 즉위한 후 한 일을 말씀해 주세요.	나는 <u>대도(베이지)</u> 로 수도를 옮기고 국호를 중국식으로 고쳐 원이라고 하였습니다. 또한 (가)	적절

- ① 남송을 정벌하였습니다.
- ② 별무반을 편성하였습니다.
- ③ 분서갱유를 단행하였습니다.
- ④ 삼번의 난을 진압하였습니다.
- ⑤ 정화의 함대를 파견하였습니다.

② 유안  
③ 신시왕제  
④ 칭 초위제  
⑤ 칭 영위제

11. (가)에 대한 설명으로 옳은 것은? [3점]



<16 ~ 17세기 (가)의 유통>

- ① 징더전의 대표적인 수출품이었다.
- ② 탈라스 전투를 계기로 이슬람 세계에 전해졌다.
- ③ 구황작물로 재배되어 인구 증가에 영향을 주었다.
- ④ 명대 일조편법의 실시로 세금 납부에 이용되었다.
- ⑤ 전국 시대에 포르투갈로부터 일본에 처음 전래되었다.

12. (가)에 들어갈 내용으로 적절한 것은?

<스스로 학습하기>  
\* 각 막부와 관련 있는 내용을 바르게 연결하십시오.

가마쿠라 막부	명에 조공
무로마치 막부	(가)
에도 막부	여·몽 연합군 격퇴

Handwritten notes: '에도막부' with arrows pointing to '가마쿠라 막부' and '무로마치 막부'.

- ① 야요이 문화 발전
- ② 다이카 개신 단행
- ③ 이와쿠라 사절단 파견
- ④ 5대 10국의 혼란 수습
- ⑤ 통신사를 통해 조선과 교류

① 청동이  
② 야마토  
③ 메이지

13. (가)에 들어갈 내용으로 적절한 것은?

동아시아사 2학년 원격 수업		
○차시: 18 ~ 19세기 동아시아 (가)		
수업	학습 자료	질문방
영상	그림: 풍속화, 민화, 우키요에	Handwritten note: '서민문화' with an arrow pointing to the '질문방' column.
영상	공연: 판소리, 경극, 가부키	
영상	소설: 홍길동전, 홍루몽	

- ① 불교의 토착화
- ② 서민 문화의 발달
- ③ 율령 체제의 확립
- ④ 과학 기술의 발달
- ⑤ 조공·책봉 체제의 형성

14. (가)에 들어갈 내용으로 적절한 것은? [3점]

수행 평가 보고서  
2학년 △반 이름 △△△

■ 과제: 동아시아의 주요 도시 조사하기  
■ 방법: 도시 한 곳을 선정하여 지도에 표시한 후 그 도시에서 있었던 역사적 사실을 서술할 것

1. 선정한 도시: ○○  
2. 위치

3. 역사적 사실  
- 주원장이 수도로 삼아 명을 건국함  
- (가)  
- 중일 전쟁 당시 일본군에 의해 대학살이 자행됨.

- ① 데지마가 조성됨.
- ② 청해진이 설치됨.
- ③ 강화도 조약으로 개항됨.
- ④ 시모노세키 조약에 의해 할양됨.
- ⑤ 제1차 아편 전쟁의 결과 불평등 조약이 체결됨.

① 나가사키 ② 랴오  
③ 반란, 민란, 농민  
④ 랴오둥, 라이완

15. 밑줄 친 '이 전쟁'이 전개되던 시기에 있었던 사실로 옳은 것은? [3점]

사진으로 보는 동아시아 현대사  
사이공 함락, 남베트남 항복

1975년 4월 30일 사이공(현 호치민)에 입성한 북베트남군과 남베트남 민족 해방 전선이 탱크를 앞세워 독립궁\*에 진입하는 모습이다. 이는 제네바 협정으로 베트남이 분단된 후 벌어진 이 전쟁이 마침내 끝났음을 보여주는 역사적인 장면이다.

\* 독립궁: 당시 남베트남의 대통령궁

- ① 한국광복군이 창설되었다.
- ② 서울 올림픽이 개최되었다.
- ③ 닉슨 독트린이 발표되었다.
- ④ 홍콩이 영국에 할양되었다.
- ⑤ 히로시마에 원자 폭탄이 투하되었다.

베트남 전쟁 (1964~75)

① 1940 ② 1988 ③ 1969  
④ 1642 ⑤ 1945

16. 밑줄 친 '전쟁'의 결과로 옳은 것은?



- ① 갑신정변이 일어났다.
- ② 양무운동이 전개되었다.
- ③ 메이지 유신이 추진되었다.
- ④ 포츠머스 조약이 체결되었다.
- ⑤ 상하이 등 5개 항구가 개항되었다.




① 1884 ② 1861~94 ③ 1868 ④ 1905 ⑤ 1842

17. (가)에 들어갈 내용으로 가장 적절한 것은?

동아시아사 탐구 보고서  
2학년 △반 이름 △△△

◎ 탐구 주제 : (가)

◎ 수집 자료

도쿄의 서양식 건물
전화 교환수
상하이에 부설된 철도

- ① 고증학의 발달
- ② 입헌 운동의 전개
- ③ 부국강병을 위한 근대 교육
- ④ 제2차 세계 대전의 전후 처리
- ⑤ 근대 문물의 수용과 생활의 변화

18. (가), (나) 시기 사이에 있었던 사실로 옳은 것은? [3점]

(가) 일본군은 류타오후에서 남만주 철도 일부를 폭파한 뒤 이 사건을 중국군의 소행으로 몰아 만주를 침략하였다.  
(나) 루거우차오 사건을 구실로 일본은 중국 본토에 대한 침략을 감행하였다.

- ① 만주국이 수립되었다.
- ② 신해혁명이 일어났다.
- ③ 3·1 운동이 전개되었다.
- ④ 태평천국 운동이 시작되었다.
- ⑤ 일본이 진주만을 공격하였다.

① 1932  
② 1912  
③ 1919  
④ 1851  
⑤ 1944

19. 다음 판결이 내려진 시기를 연표에서 옳게 고른 것은? [3점]

동아시아사신문  
도쿄재판 71946 19△△년 △△월 △△일  
일본의 A급 전범, 최종 판결 선고되다!

오늘 도쿄의 극동 국제 군사 재판소는 도조 히데키 등 A급 전범에 대하여 최종 판결을 내렸다. 이들 중 7명은 사형, 그 나머지는 중신영 등을 선고받았다. 이로써 일본이 항복한 이듬해부터 2년여에 걸쳐 진행된 재판이 일단락되었다.

1875 (가)	1897 (나)	1919 (다)	1946 (라)	1965 (마)	1989
운요호 사건	대한 제국 수립	파리 강화 회의 개최	태평양 전쟁 발발	한일 기본 조약 체결	텐안면 사건

① (가)    ② (나)    ③ (다)    ④ (라)    ⑤ (마)

20. 밑줄 친 '정책'에 대한 설명으로 옳은 것은?



- ① 헌의 6조를 채택하였다.
- ② 금릉 기기국을 설치하였다.
- ③ 개혁과 개방을 강조하였다.
- ④ 5·4 운동의 배경이 되었다.
- ⑤ 변법자강 운동에 영향을 주었다.

① 독립운동의  
② 양무운동  
③ 신문화운동...  
④ 청일전쟁

\* 확인 사항

○ 답안지의 해당란에 필요한 내용을 정확히 기입(표기)했는지 확인하십시오.

만주사변 (1931)  
중일전쟁 (1937)